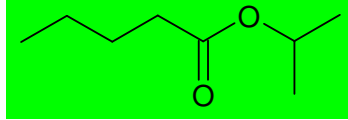


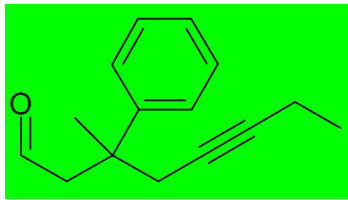
# INTERROGATION ÉCRITE DE CHIMIE, CORRIGÉ

1) Écrire les molécules nommées ci-dessous en représentation topologique :

a) Pentanoate d'isopropyle

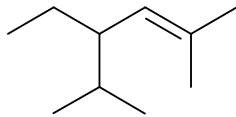


b) 3-Méthyl-3-phényl-oct-5-ynal



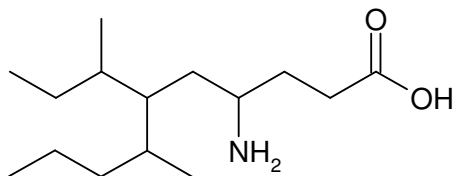
2) Nommer les molécules suivantes :

a)



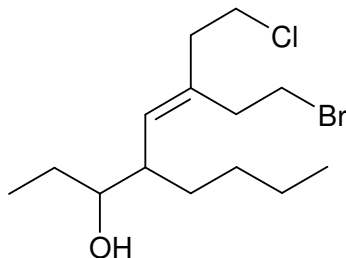
4-Éthyl-2,5-diméthylhex-2-ène

b)



Acide 4-amino-7-méthyl-6-(1-méthylpropyl)décanoïque

c)



8-Bromo-4-butyl-6-(2-chloroéthyl)oct-5-én-3-ol