

Jeudi 8 novembre 2007

NOM :

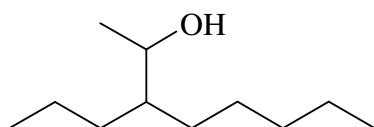
## INTERROGATION ÉCRITE DE CHIMIE

PRÉNOM :

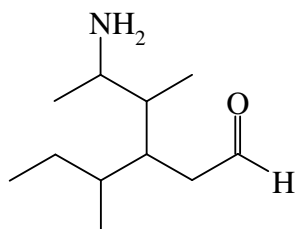
*Les calculatrices ne sont pas autorisées*

Nommer les molécules suivantes :

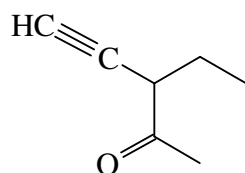
1)



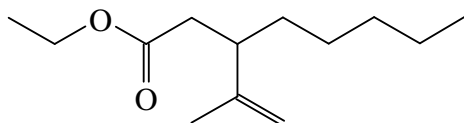
2)



3)



4)



5)

