

Jeudi 9 novembre 2006

NOM :

INTERROGATION ÉCRITE DE CHIMIE

PRÉNOM :

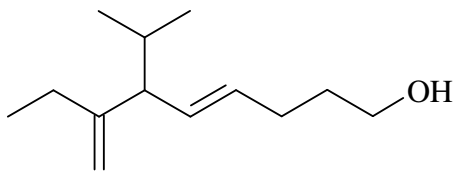
Les calculatrices ne sont pas autorisées

Dessiner la molécule suivante en représentation topologique :

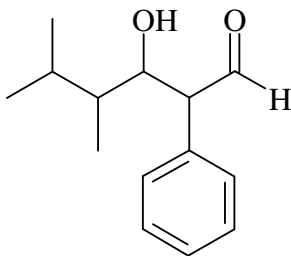
acide 3-(2-bromoéthyl)-4-méthylhex-5-énoïque

Nommer les molécules suivantes :

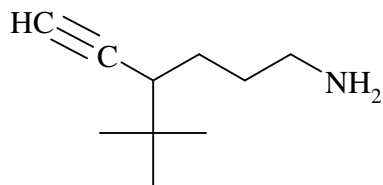
1)



2)



3)



4)

