

Jeudi 4 novembre 2004

NOM :

## INTERROGATION ÉCRITE DE CHIMIE

PRÉNOM :

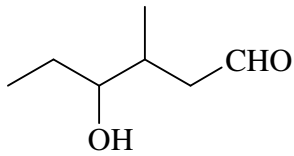
---

*Les calculatrices ne sont pas autorisées*

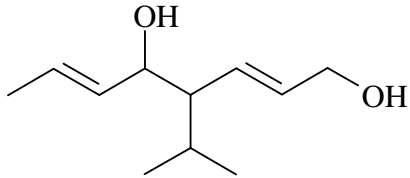
---

Nommer les molécules suivantes :

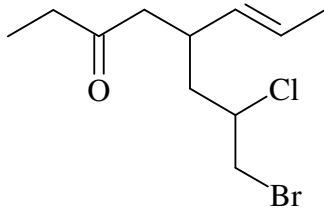
1)



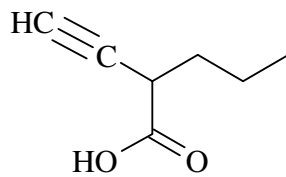
2)



3)



4)



5)

